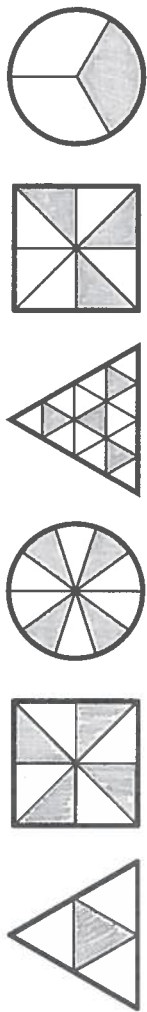


DOMÁCÍ ÚKOL č. 1



- 1) Lednička stála 5 400 Kč. Určete, kolik bude stát po slevě:
a) 50 % b) 25 % c) 10 % d) 20 % e) 2 %

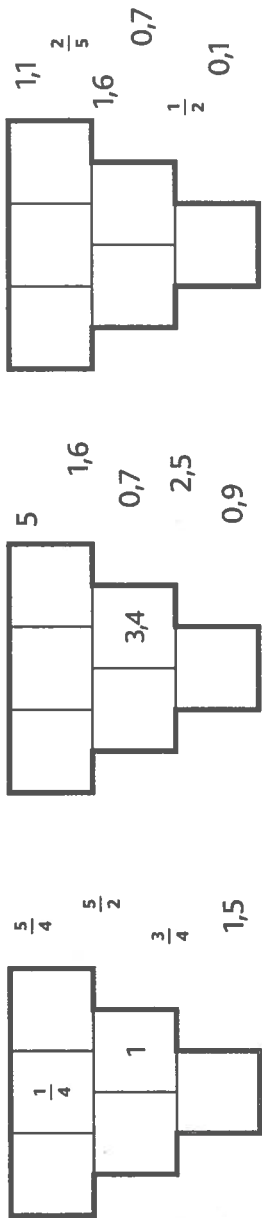
2) Každý útvar je rozdělen na několik shodných útvarů. Zjistěte, kolik procent je vybarveno.



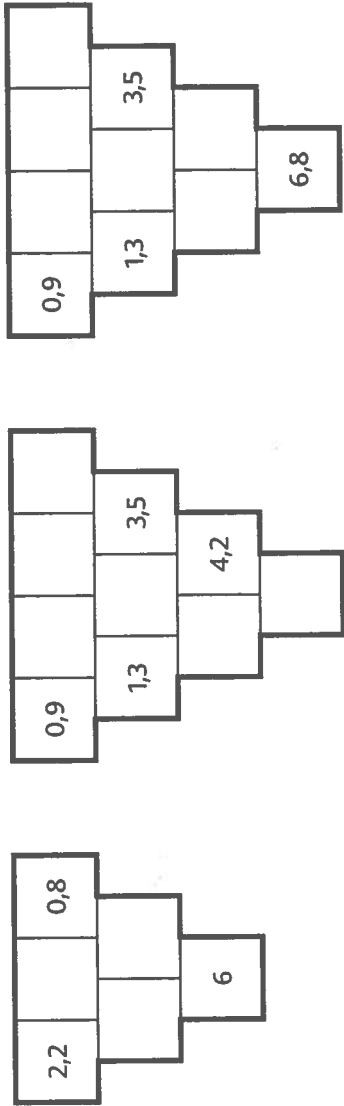
3) Vyřešte hady.



4) Vraťte uprchlíky zpátky.



5) Vyřešte součtové trojúhelníky.



JMÉNO:

Vypůjčij buď úlohy A nebo úlohy B. Vypočty píš na druhou stranu nebo na xoldělnu list, odvedej do pátku!

- 1) Byli jsme na rozhledně. Nejprve nás vezli autem a pak o 50 % déle jsme šlapali. Zjistěte, jak dlouho jsme šlapali, jestliže celá cesta trvala a) 50 minut, b) 60 minut.



Myslím si číslo. Když z jeho $\frac{5}{3}$ vezmu $\frac{6}{5}$, dostanu 25. Které číslo si myslím?

3) Posoupnost znaků se stále opakuje. Říkáme, že je periodická.



a) Nakreslete několik dalších znaků.

b) Do tabulky zapíšte, kolik modrých znaků a kolik modrých čtverců je v první dvacíce/padesátce/stovce znaků.

	modrých znaků	modrých čtverců
v prvních 20	7	
v prvních 50		
v prvních 100		